



### 常設展示用ワークシート



マップA (日本橋)

日本橋を渡ってみよう

**Q1** 江戸時代の日本橋の長さは、約何メートルだったでしょうか。  
**あ** 25メートル **い** 51メートル  
**う** 80メートル

**A** 江戸のシンボル 日本橋

江戸東京博物館の常設展示室に入ると大きな橋がかかっています。これは、江戸時代につくられた日本橋の高さと幅はそのままに、長さを半分にして復元した模型です。日本橋がかけられたのは、江戸に幕府が開かれた1603年(慶長8)のこと。日本橋は、繁栄する江戸の象徴でした。

**Q2** 日本橋の名の由来にはいろいろな説がありますが、「」の起点として、日本の中心と考えられたからではないかといわれています。「」に当てはまる言葉を考えましょう。

**Q3** 写真の一部が抜けていますが、何という部分でしょうか。

また、抜けているところに絵を描いて橋を完成させましょう。



マップB (中村座)

日本橋からみてみよう



**Q1** 日本橋の脇に見える建物は、江戸時代の代表的な歌舞伎の芝居小屋である中村座の正面部分を、原寸大で復元した模型です。ここでは、人々が日常を忘れて歌舞伎の世界を楽しみました。槽正面の中村座の座紋は、左の三つのうちどれでしょうか。

## B 芝居小屋・中村座

**Q2** この座紋の両側面には、何という文字が書かれていますか。

**Q3** 写真の★印で示した「天水桶」は、中村座だけでなく、江戸の町の建物の屋根に所々設置されていました。この桶の中には、何を入れていたのでしょうか。

**Q4** また、Q2で答えたものは、どのよきな時に使われたと思いますか。

**あ** 保存食 **い** 井戸水 **う** 雨水



マップH (両国橋西詰)



**H** 江戸一番の盛り場 両国

火事の多かった江戸では、火が広がることを防ぐために火除け地という広場が数カ所設けられていました。そこにはやがてお店が立ち並び、たくさんの人が集まるようになりまし。こうして誕生したのが「盛り場」です。両国も江戸を代表する盛り場のひとつでした。

**Q1** 「両国橋西詰」模型に見える橋の名前と、その下を流れる川の名前は、それぞれ何でしょうか。

**Q2** 次の写真の模型を探してみてください。彼らは何を売っているのでしょうか。

**Q3** 季節はいつごろでしょうか。

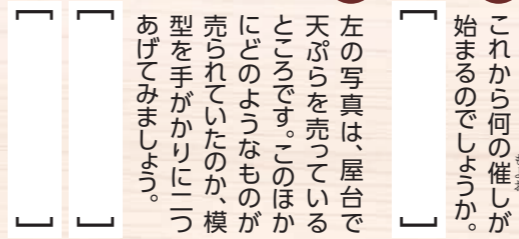
**Q4** これから何の催しが始まるのでしょうか。

**Q5** 左の写真は、屋台で天ぷら売っているところ。このほかにもどのおももの売られていたのか、模型を手がかりに二つあげてみましょう。

両国橋はとてにぎやか



マップH (両国橋西詰)






くらべてみよう

# C 大名屋敷と町人地

寛永期の江戸における大名屋敷と町人屋敷には、それぞれ特徴がありました。



Q1 模型「寛永の大名屋敷」と模型「寛永の町人地」にある町人屋敷を比べると、どのような違いがあるのでしょうか。それぞれ書き出してみよう。

- ◆ 住人はだれか…
- ◆ 建物の大きさ…
- ◆ 建物の特徴(様子)…

Q2 左の写真は、模型「寛永の大名屋敷」にある門です。

この門のあまりの美しさに、町人たちが一日中眺めても飽きなかったので「日暮の門」とも呼ばれました。



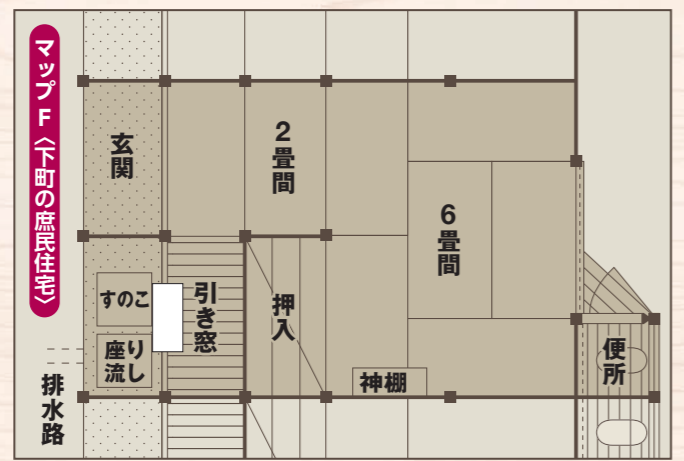
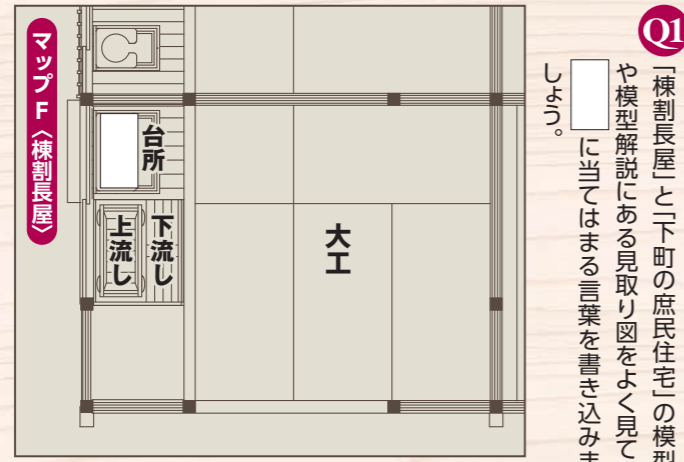
1 この門の名前は何でしょう。  
2 また、誰が通るための門でしょう。

Q3 17世紀はじめ頃、江戸の町には戦国時代の面影を残す豪華絢爛な屋敷がたくさんありました。これらの屋敷は、ある大火によって焼失すると、その後には再建されませんでした。この大火とは次のどれでしょう。

- あ 明暦の大火 (1657年・明暦3)
- い 八百屋お七の火事 (1683年・天和2)
- う 関東大震災 (1923年・大正12)

# F 江戸住まい拝見

ガスや電気がなかった時代、人々はどうのような生活を送っていたのでしょうか。また、暮らしのスタイルはどのように変わっていったのでしょうか。江戸時代の町人が住んでいた「棟割長屋」模型(江戸ゾーン)と、昭和初期の「下町の庶民住宅」模型(東京ゾーン)をくらべてみましょう。



Q2 それぞれの家にある道具について、何に使うものか考えてみましょう。

くらべてみよう  
庶民生活の今昔

# D 大名駕籠に乗って

参勤交代によって全国の大名は、江戸にも屋敷をつくり、国元との間を往復することになりました。車も電車もない時代、全国の大名たちは駕籠に乗って江戸にやってきました。この駕籠は、美作国津山藩(現在の岡山県)の藩主が実際に使った駕籠から複製したものです。



Q1 駕籠は何人でかついだのか。しよつか。

- あ 30 kg
- い 60 kg
- う 100 kg

Q2 駕籠の重さは、およそどれくらいだと思いますか。

Q3 参勤交代は、どのような目的を果たしたのでしょうか。当てるものは全部選びましょう。

- あ 将軍に挨拶しに行く
- い 宿場・街道を整備する
- う 大名にたくさんのお金を使わせる

Q4 参勤交代によって江戸の街はどのように変化しましたでしょうか。正しくないものを選びましょう。

- あ 大名屋敷が増えた
- い 人口が減った
- う 商売が盛んになった

# G 百貨店の前身 三井越後屋

新しい商人のスタイルを見てみよう



Q3 店の中ではどんな会話がやりとりされているのでしょうか。左のシーンに当てはまる会話を想像して入れてみましょう。



無掛値 掛け値無しと読みます。これまでは物の値段を利子を含んだ掛け値で売っていましたが、三井越後屋は定価で売るという新しい商法を展開しました。

現銀：現金のこと。江戸の商人は銀貨も使っていました。

Q1 左の図はお店の看板のつです。○の中にお店のマークを描き、□に当てはまる文字を記入しましょう。

- あ 食料品
- い 浮世絵
- う 呉服
- え 文房具

Q2 三井越後屋で売られていたものは何でしょうか。

- あ 金・銀・銭の三種類
- い 箱は小判を入れるための箱です。箱が3kgだとすると、小判1000枚は何kgになるでしょうか。

# E 体験しよう！ 纏



Q1 纏は町火消48組のシンボルとして火事場では必ず掲げられました。この纏は何組のものでしょうか。

- あ 100 kg
- い 60 kg
- う 100 kg

Q2 江戸時代、野菜を作るための大切な肥料として主に何が利用されていたのでしょうか。

- あ 糞
- い 糞
- う 糞



Q3 江戸時代のお金には、金・銀・銭の三種類がありました。千両箱は小判を入れるための箱です。箱が3kgだとすると、小判1000枚は何kgになるでしょうか。



Q2 江戸時代、野菜を作るための大切な肥料として主に何が利用されていたのでしょうか。

- あ 糞
- い 糞
- う 糞